

Тестовая работа для обучающихся (выпускников) 4-х классов

Код участника:



Код ОО:

Класс:

Вариант:

Фамилия, имя:

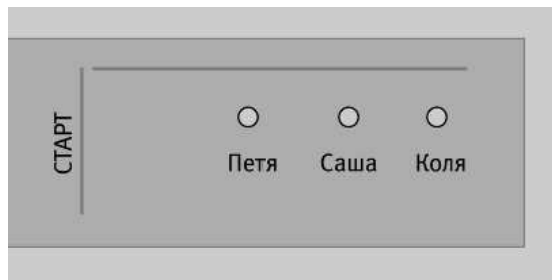
Образец написания метки



ЗАПРЕЩЕНЫ исправления в области ответов

Будьте аккуратны! Случайный штрих внутри квадрата может быть воспринят как метка

- 1 На схеме показано место приземления каждого из трех участников соревнований по прыжкам в длину. Каким может быть результат Пети, если Саша прыгнул на 2 м 50 см, а Коля на 2 м 80 см?



2 м 65 см

2 м 20 см

3 м 10 см

2 м 90 см

- 2 На уроке математики Саша начертил прямоугольник, измерил его стороны в сантиметрах и для нахождения периметра составил числовое выражение $(5 + 7) \cdot 2$. Чему равны длина и ширина прямоугольника?

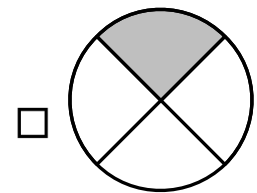
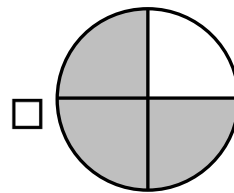
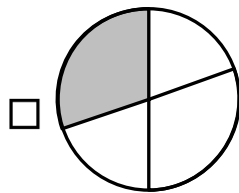
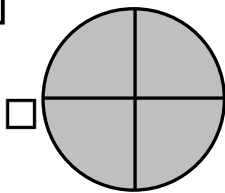
5 см и 2 см

7 см и 2 см

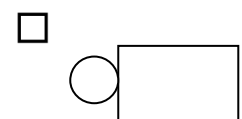
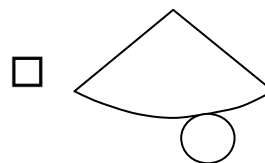
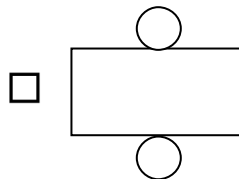
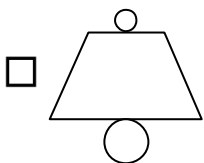
14 см и 10 см

7 см и 5 см

- 3 На каком рисунке закрашена четверть круга?



- 4 Ребята хотят сделать на елку игрушку в форме конуса. Они вырезали из цветной бумаги несколько фигур. Отметь фигуру, из которой можно сложить конус.



- 5 Вычисли: $8016 : 8 + 70$.

172

1072

82

932

6



Папа пошел в магазин и у него в кошельке такие деньги. С помощью какого выражения можно узнать, сколько всего денег у папы в кошельке?

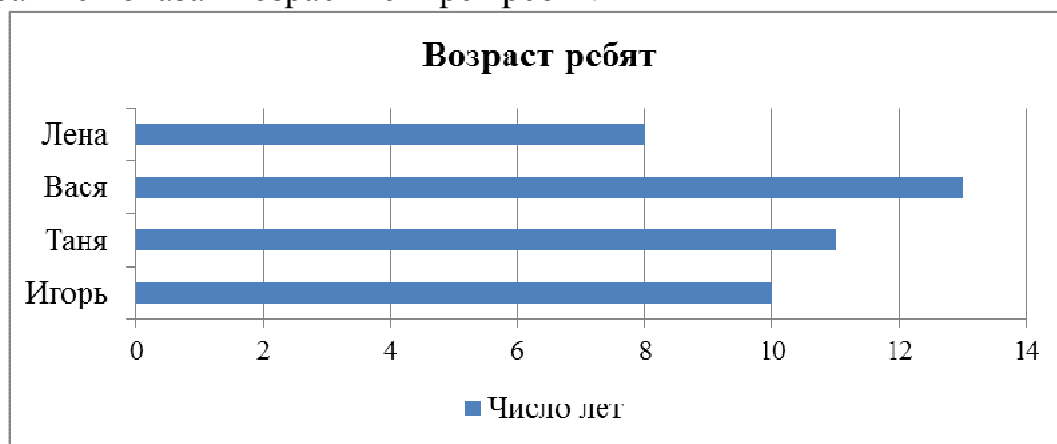
$(100 + 5) \cdot 3 + 5$

$100 \cdot 3 + 5 \cdot 4$

$100 \cdot 3 + 5 \cdot 3 + 10$

$100 \cdot 4 + 5 \cdot 3$

7 На диаграмме показан возраст четырех ребят.



На сколько лет Вася старше Игоря? Запиши ответ.

Ответ:

8 Надя задумала число, уменьшила его вдвое и получила 180. Какое число задумала Надя?

Ответ:

9 Ваня, Света и Катя решили задачу: «На школьный праздник для призов купили 10 коробок шоколадок по 15 в каждой коробке. После окончания праздника осталось 15 шоколадок. Сколько шоколадок использовали на призы?»

Кто из ребят решил задачу верно?

Решение Вани	Решение Светы	Решение Кати
1) $10 - 1 = 9$ (кор.)	1) $15 \cdot 10 = 150$ (ш.)	1) $10 \cdot 15 = 150$ (ш.)
2) $15 \cdot 9 = 135$ (ш.)	2) $150 - 15 = 135$ (ш.)	2) $150 + 15 = 145$ (ш.)

Ответ:

10 За 15 минут дымковская мастерица расписывает 3 свистульки. Сколько таких свистулек она распишет за час, если будет работать с той же скоростью?

Ответ:

